



نموذج اختبار الاختبار الأول / السنة الأولى			
<ul style="list-style-type: none"> • مخرج التعلم الأول - يميز الأرقام ومقاديرها من 1 - 1000 • مخرج التعلم الثاني - يستخدم العمليات الحسابية البسيطة (الجمع - الطرح - القسمة) • مخرج التعلم الثالث - يميز ويرسم الأشكال الهندسية الأساسية 	مخرج التعلم	يُطبق المفاهيم الرياضية والعمليات الحسابية	اسم الوحدة
الفصل الأول	2023	السنة الدراسية / الفصل الدراسي	اسم المدرّب
		اسم المجموعة	اسم الطالب/ة

أسئلة الاختبار	
استكمال سلسلة الأعداد من الرقم 1 إلى الرقم 20 بمفرده	السؤال الأول
تحديد الأعداد وإيجاد مجموعها من مجموعة المكعبات بمفرده	السؤال الثاني
إيجاد العمليات الحسابية البسيطة (الجمع والطرح) بمفرده	السؤال الثالث





اكمل سلسلة الاعداد من 1 - 20

السؤال الأول

1		3	4			7			10
11			14		16		18	19	

اوجد الناتج من مجموعة المكعبات (المئات+العشرات+الاحاد)



السؤال الثاني



	<p>9 hundreds + 1 ten + 8 ones</p> <p>_____ + _____ + _____ = _____</p>
	<p>6 hundreds + 5 tens + 3 ones</p> <p>_____ + _____ + _____ = _____</p>
	<p>2 hundreds + 9 tens + 6 ones</p> <p>_____ + _____ + _____ = _____</p>
	<p>3 hundreds + 8 tens + 9 ones</p> <p>_____ + _____ + _____ = _____</p>







أوجد ناتج الجمع

السؤال الثالث

 $+$  $=$
 $+$ $=$

 $+$  $=$
 $+$ $=$

 $+$  $=$
 $+$ $=$

 $+$  $=$
 $+$ $=$





أوجد ناتج الطرح

السؤال الرابع

